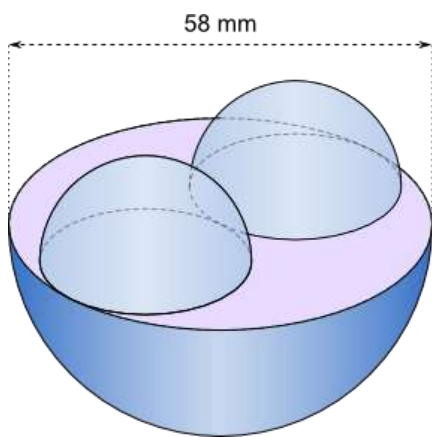
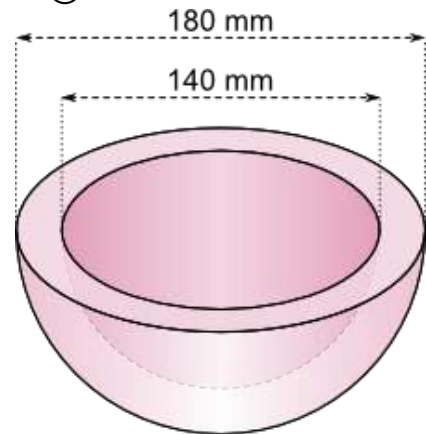


Liebe G9, wenn ihr das AB „Kugeln und andere Körper“ verstanden habt, sollte das nachfolgende AB kein Problem darstellen. Geht schrittweise vor, notiert immer was gegeben ist. Und wenn ihr gar nicht mehr weiterkommt, dürft ihr einen kurzen Blick auf die Lösung werfen 😊

Aufgabe 1:

Berechne das Volumen und die Oberfläche.

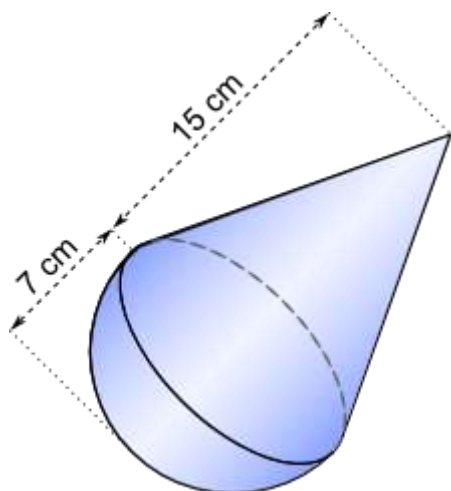
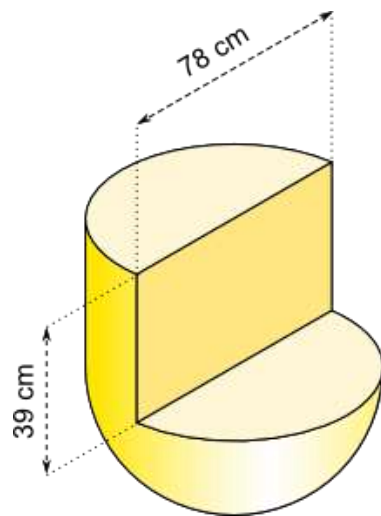


Aufgabe 2:

Berechne das Volumen und die Oberfläche.

Aufgabe 3:

Berechne das Volumen und die Oberfläche.



Aufgabe 4:

Berechne das Volumen und die Oberfläche.