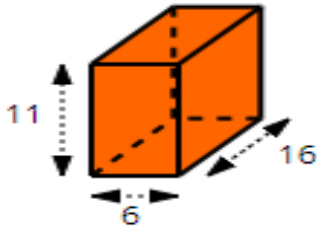


Liebe G9, ihr habt euch in den letzten Wochen alles zum Thema „Körper“ selbst erarbeitet. Wie gut ihr das verstanden habt, testen wir nun. Gebt bei jedem Körper an, um welchen Körper es sich handelt, wie groß die Oberfläche und das Volumen jeweils ist. Bei der Berechnung der Oberfläche und des Volumens solltet ihr Zwischenschritte angeben. Anschließend schickt ihr mir die Lösungen bis Freitag, 08.05, 15 Uhr zu. Ihr erhaltet dann eine Rückmeldung von mir. (Bitte nicht in der Klassengruppe schicken, sondern im Privatchat 😊)



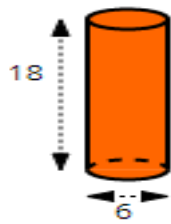
Körper: _____

O = _____

= _____

V = _____

= _____



Körper: _____

O = _____

= _____

V = _____

= _____



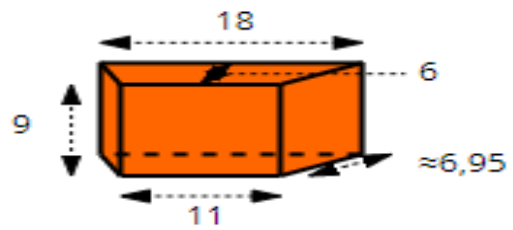
Körper: _____

O = _____

= _____

V = _____

= _____



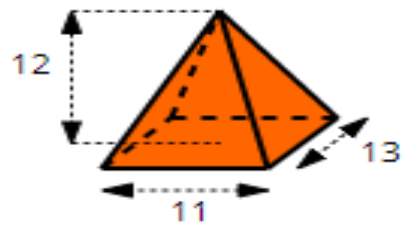
Körper: _____

O = _____

= _____

V = _____

= _____



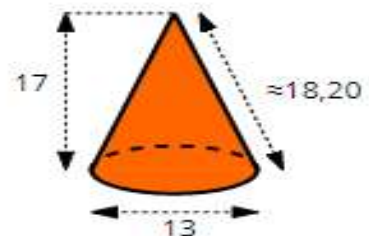
Körper: _____

O = _____

= _____

V = _____

= _____



Körper: _____

O = _____

= _____

V = _____

= _____